

- 1 Ξέρεις πώς λέγονται στα ελληνικά τα παρακάτω αθλήματα; Αντιστοίχισε τα αθλήματα της πρώτης στήλης με αυτά της δεύτερης, όπως στο παράδειγμα:

Γουότερ πόλο	Πετοσφαίριση
Τένις	Καλαθοσφαίριση
Πινγκ πονγκ	Επιτραπέζια αντισφαίριση
Μπάσκετ	Υδατοσφαίριση
Βόλεϊ μπολ	Ιστιοσανίδα
Γουίττ σέρφινγκ	Αντισφαίριση

- 2 Διάβασε το πρώτο κείμενο της ενότητας και βάλε ένα Χ στο κατάλληλο κουτάκι.

	ΣΩΣΤΟ	ΛΑΘΟΣ
1. Τα Ολυμπιακά αγωνίσματα μέχρι σήμερα είναι 28.		
2. Ο στίβος περιλαμβάνει μόνο αγωνίσματα που γίνονται μέσα στο στάδιο.		
3. Ο Μαραθώνιος δεν είναι αγώνισμα στίβου.		
4. Σύνθετους αγώνες ονομάζουμε το δέκαθλο και το έπταθλο.		
5. Ένα από τα αγωνίσματα των σύνθετων αγώνων είναι το μήκος.		
6. Στους πρώτους Ολυμπιακούς Αγώνες και μέχρι την 13η Ολυμπιάδα το μοναδικό αγώνισμα ήταν το ακόντιο.		
7. Στις πρώτες Ολυμπιάδες η διάρκεια των αγώνων ήταν μόνο μια μέρα και αργότερα αυξήθηκε σταδιακά σε πέντε μέρες.		
8. Τα Παραολυμπιακά αγωνίσματα μέχρι σήμερα είναι 18.		
9. Οι Παραολυμπιακοί και οι Ολυμπιακοί Αγώνες δεν έχουν κανένα κοινό αγώνισμα.		

- 3 Διάβασε το κείμενο «Αρματοδρομίες το 2003!» και βρες ποια στοιχεία ανήκουν στον 5ο αιώνα π.Χ. και ποια στον 21ο μ.Χ. Βάλε ένα Χ στο κατάλληλο κουτάκι.


	5ος αι. π.Χ.	21ος αι. μ.Χ.
1. η αρματοδρομία		
2. «αγαπητοί τηλεθεατές»		
3. «φίλοι ακροατές»		
4. η Γιουροβίζιον		
5. οι ρεπόρτερς		
6. η συνέντευξη		
7. ο παιδοτρίβης		
8. τα μεγάφωνα		
9. ο γυμνασιάρχης		
10. οι σημαίες		
11. οι δάφνες		
12. η πομπή από άλογα		

Ξέρεις ότι:

- Στους Ολυμπιακούς Αγώνες της Αμβέρσας το 1926, το μετάλλιο του νικητή στη μπροστινή όψη απεικονίζει τη Νίκη καθιστή να κρατά στο ένα της χέρι κλαδί από φοίνικα και με το άλλο να σηκώνει ένα στεφάνι ελιάς. Πίσω της φαίνεται ένα αρχαίο στάδιο και στη βάση του μεταλλίου υπάρχουν παραστάσεις από ιπποδρομίες.
- Από τους Ολυμπιακούς αγώνες του Μονάχου το 1972 και μετά, η χώρα που διοργανώνει τους αγώνες απέκτησε το δικαίωμα να βάζει ένα δικό της θέμα στην πίσω όψη του Ολυμπιακού μεταλλίου, συνήθως το έμβλημα των αγώνων.




4 Ζωγράφισε το δικό σου μετάλλιο των Ολυμπιακών Αγώνων.




Αυτό το ήξερες;

- Οι μασκότ των Ολυμπιακών αγώνων του 2004 είναι ο Φοίβος και η Αθηνά. Οι δημιουργοί τους εμπνεύστηκαν από μια αρχαία ελληνική κούκλα.
- Τα ονόματα των δύο μασκότ συνδέονται με την Αρχαία Ελλάδα. Το αγόρι έχει το όνομα του μυθικού θεού του Ολύμπου Απόλλωνα – Φοίβου, που ήταν ο Θεός του φωτός και της μουσικής. Το κορίτσι έχει το όνομα της Αθηνάς, που ήταν Θεά της Σοφίας και προστάτευε την πόλη των Αθηνών. Η Αθηνά ήταν αδελφή του Απόλλωνα.
- Ο Φοίβος και η Αθηνά συμβολίζουν τη μεγάλη Ολυμπιακή ιδέα: την αδελφότητα και την ισότητα ανάμεσα σε όλους του ανθρώπους του κόσμου. Επίσης, μας θυμίζουν ότι το κέντρο, η καρδιά των Ολυμπιακών Αγώνων, είναι και θα παραμείνει για πάντα ο ίδιος ο άνθρωπος.



- 5 Τι θα 'λεγες να σχεδιάσεις τη μασκότ και το σήμα των επόμενων Ολυμπιακών Αγώνων; Εδώ μπορείς να το κάνεις!



- 6 Συμπλήρωσε τα κενά με τον κατάλληλο τύπο των ουσιαστικών σε παρένθεση.

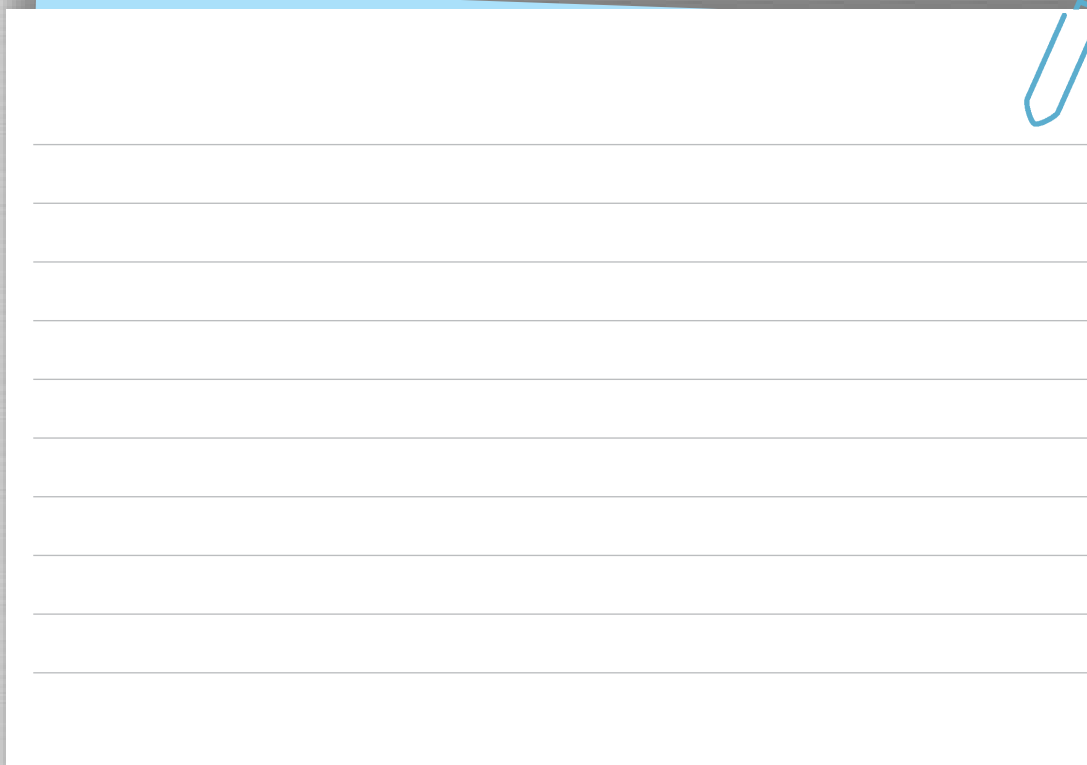
1. Το αγώνισμα του δρόμου χωρίζεται σε δρόμους ταχύτητας και δρόμους μεγάλων _____ (απόσταση).
2. Αυτός ο αθλητής είναι γνωστός για τις καλές του _____ (επίδοση) στον ακοντισμό.
3. Στο σημείο _____ (εκκίνηση) οι αθλητές παίρνουν θέση για να ξεκινήσουν μόλις ακουστεί ο χαρακτηριστικός ήχος.
4. Στη σφαιροβολία, νικητής είναι ο αθλητής που θα επιτύχει την μεγαλύτερη βολή σε μια από τις έξι _____ (ρίψη) του.
5. Στους αγώνες _____ (πρόκριση) ατομικού στη ρυθμική γυμναστική, αγωνίζονται οι 24 αθλήτριες που προκρίθηκαν στο αγώνισμα.
6. Ο αριθμός των _____ (άφιξη) αυξάνεται σημαντικά στα αεροδρόμια, όταν διοργανώνονται αθλητικοί αγώνες στην περιοχή.

7 Συμπλήρωσε τα κενά με τον κατάλληλο τύπο των ουσιαστικών σε παρένθεση.

Ξέρεις ότι:

1. Ο ακοντισμός γίνεται σε διάδρομο _____ (μήκος) 30-36,5 μέτρων και _____ (πλάτος) 4 μέτρων.
2. Στους αγώνες πυγμαχίας, οι αθλητές διαγωνίζονται ανάλογα με την κατάταξή τους σε κατηγορίες σωματικού _____ (βάρος).
3. Το τραπέζι του πινγκ-πονγκ χωρίζεται σε δύο γήπεδα με ένα δίκτυο το οποίο έχει _____ (ύψος) 0,1525 μέτρα.
4. Η ρακέτα μπορεί να έχει όλα τα σχήματα και τα _____ (μέγεθος), αλλά το 85% του υλικού από το οποίο έχει κατασκευαστεί πρέπει να είναι από ξύλο.

8 Διάλεξε ένα από τα Ολυμπιακά αθλήματα, βρες πληροφορίες σχετικά με αυτό και γράψε μια σύντομη παρουσίαση (50-60 λέξεις) που θα διαβάσεις στην τάξη.



9 Με τους συμμαθητές σου χωριστείτε σε ομάδες. Η κάθε ομάδα αναλαμβάνει να περιγράψει με παντομίμα ένα άθλημα. Οι άλλες ομάδες θα προσπαθήσουν να το μαντέψουν.



10

Άκουσε τη ραδιοφωνική εκπομπή και σημείωσε τη σωστή απάντηση με ένα Χ.

1. Οι ειδήσεις που ακούσατε είναι:
 - των οκτώ και μισή από το Αθλητικό Πρόγραμμα.
 - των οκτώ από το Ολυμπιακό Ραδιόφωνο.
 - των οκτώ από το Αθλητικό Πρόγραμμα.

2. Στη χθεσινή συνεδρίαση αποφασίστηκε να αλλάξει στο μετάλλιο:
 - η πίσω πλευρά.
 - και οι δύο πλευρές.
 - η μπροστινή πλευρά.

3. Στην εμπρόσθια πλευρά του μεταλλίου θα απεικονίζεται:
 - το Καλλιμάρμαρο.
 - η Νίκη και πίσω της το Καλλιμάρμαρο.
 - η Νίκη.

4. Η επίσημη παρουσίαση του σχεδίου:
 - έγινε χθες στη συνεδρίαση.
 - θα γίνει σε λίγες μέρες.
 - θα γίνει κατά την έναρξη των Ολυμπιακών Αγώνων.

5. Λέγεται ότι στην πίσω πλευρά του μεταλλίου θα απεικονίζονται:
 - οι λέξεις «Ολυμπιάδα της Αθήνας».
 - η αριθμητική σειρά των Ολυμπιακών Αγώνων.
 - μια αρχαία θεότητα.